

Exercice sur la notion "et quart"

a



.....

.....



.....

.....



.....

.....



.....

.....



.....

.....



.....

.....

Groupe 3 : l'heure

matrice 9

Exercice sur la notion "et quart"

b

7 heures et quart



9 heures et quart



3 heures et quart



midi et quart



2 heures et quart



4 heures et quart



1 heure et quart



10 heures et quart



6 heures et quart



8 heures et quart



11 heures et quart



5 heures et quart



Exercice sur la notion "moins le quart"

a



.....

.....



.....

.....



.....

.....



.....

.....



.....

.....



.....

.....

Exercice sur la notion "moins le quart"

b

3 heures moins le quart



10 heures moins le quart



5 heures moins le quart



1 heure moins le quart



7 heures moins le quart



2 heures moins le quart



11 heures moins le quart



8 heures moins le quart



6 heures moins le quart



9 heures moins le quart



4 heures moins le quart









midi moins le quart



Exercice sur la notion "moins le quart" - "et quart"

a



Exercice sur la notion "moins le quart" - "et quart"

b



7 heures moins le quart



9 heures moins le quart



10 heures et quart



1 heure moins le quart



9 heures et quart



3 heures et quart



7 heures et quart



8 heures moins le quart



2 heures moins le quart



4 heures et quart



5 heures moins le quart



midi et quart



2 heures et quart



8 heures et quart



4 heures moins le quart



10 heures moins le quart



3 heures moins le quart



11 heures moins le quart



6 heures moins le quart



6 heures et quart



11 heures et quart



1 heure et quart



midi moins le quart



5 heures et quart

Groupe 3 : l'heure

matrice 12